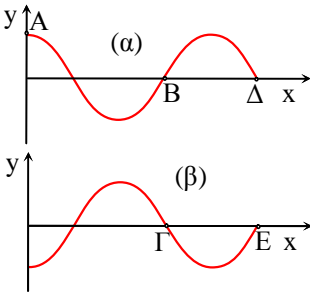


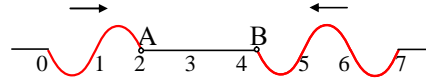
ΔΙΑΓΩΝΙΣΜΑ ΣΤΑ ΚΥΜΑΤΑ

ΘΕΜΑ 1^ο:

- 1) Κατά τη διάδοση ενός κύματος σ' ένα ελαστικό μέσον
 - i) μεταφέρεται ύλη.
 - ii) μεταφέρεται ενέργεια και ύλη.
 - iii) όλα τα σημεία του ελαστικού μέσου έχουν την ίδια φάση την ίδια χρονική στιγμή.
 - iv) μεταφέρεται ενέργεια και ορμή με ορισμένη ταχύτητα.
- 2) Το μήκος κύματος ενός αρμονικού κύματος το οποίο διαδίδεται κατά μήκος γραμμικού ομογενούς ελαστικού μέσου.
 - i) είναι η απόσταση μεταξύ δύο σημείων του ελαστικού μέσου τα οποία έχουν διαφορά φάσης ακέραιο πολλαπλάσιο του 2π (rad).
 - ii) είναι η απόσταση μεταξύ δύο σημείων του ελαστικού μέσου τα οποία έχουν διαφορά φάσης ακέραιο πολλαπλάσιο του π (rad).
 - iii) είναι η απόσταση που διανύει το κύμα σε χρόνο μιας περιόδου,
 - iv) είναι η απόσταση που διανύει ένα μόριο του μέσου σε χρόνο μιας περιόδου.
- 3) Δύο όμοιες πηγές κυμάτων Α και Β στην επιφάνεια μιας ήρεμης λίμνης βρίσκονται σε φάση και παράγουν υδάτινα αρμονικά κύματα. Η καθεμιά παράγει κύμα (πρακτικά) αμείωτου πλάτους 10cm και μήκους κύματος 2m. Ένα σημείο Γ στην επιφάνεια της λίμνης απέχει από την πηγή Α απόσταση 6m και από την πηγή Β απόσταση 2m. Το πλάτος της ταλάντωσης του σημείου Γ είναι :
α. 0cm β. 10cm γ. 20cm δ. 40cm .
- 4) Χαρακτηρίστε τις παρακάτω προτάσεις σαν σωστές ή λαθεμένες:
 - α) Όλα τα σημεία ενός ελαστικού μέσου, στο οποίο δημιουργείται στάσιμο κύμα, ταλαντώνονται με το ίδιο πλάτος.
 - β) Σε στάσιμο κύμα, η διαφορά φάσης μεταξύ δύο σημείων του ελαστικού μέσου τα οποία βρίσκονται το ένα αριστερά και το άλλο δεξιά ενός δεσμού, σε απόσταση $\lambda/3$ μεταξύ τους είναι π (rad).
 - γ) Στο στάσιμο κύμα όλα τα σημεία του μέσου έχουν την ίδια συχνότητα ταλάντωσης.
 - δ) Το κύμα είναι μια διαταραχή που διαδίδεται μεταφέροντας ενέργεια και ορμή
 - ε) Τα υλικά σημεία του μέσου μέσα στο οποίο διαδίδεται το κύμα μεταφέρονται με την ταχύτητα του κύματος
 - στ) Υπάρχουν κύματα που διαδίδονται μόνο σε ελαστικά μέσα αλλά και κύματα που διαδίδονται και στον κενό χώρο
 - ζ) Η δημιουργία ενός κύματος είναι ανεξάρτητη της δόνησης της πηγής
 - η) Το όζον της τροπόσφαιρας απορροφά κατά κύριο λόγο την υπεριώδη ακτινοβολία.
 - θ) Τα μικροκύματα και τα υπέρυθρα κύματα παράγονται από κατάλληλα ηλεκτρονικά κυκλώματα.
 - ι) Οι ακτίνες γ είναι υπεύθυνες για το «μαύρισμα» όταν κάνουμε ηλιοθεραπεία.
- 5) Δίνεται το στιγμιότυπο (α) του διπλανού σχήματος κάποια χρονική στιγμή t_0 , για ένα κύμα που διαδίδεται προς τα δεξιά, χωρίς αρχική φάση.
 - i) Ποια η φάση του σημείου Δ;
 - ii) Για πόσο χρόνο ταλαντώνεται το σημείο Β;
 - iii) Πόσες ταλαντώσεις έχει εκτελέσει η πηγή του κύματος στην θέση $x=0$;
 - iv) Αναφερόμενοι στο (β) σχήμα που το κύμα διαδίδεται επίσης προς τα δεξιά ξεκινώντας από τη θέση $x=0$:
 - a) Ποιες οι φάσεις των σημείων Γ και Ε;
 - b) Ποια η αρχική φάση της πηγής;

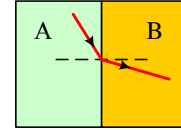
ΘΕΜΑ 2^ο:

- 1) Κατά μήκος ενός γραμμικού ελαστικού μέσου διαδίδονται με ταχύτητα $v=1\text{m/s}$ δύο κύματα ίδιου πλάτους και ίδιου μήκους κύματος και στο σχήμα φαίνεται η μορφή του μέσου τη χρονική στιγμή t_0 .



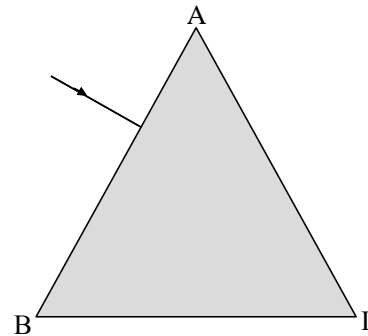
- i) Πόση είναι η φάση του σημείου A και πόση του σημείου B τη στιγμή αυτή;
 ii) Να σχεδιάσετε τη μορφή του μέσου τις χρονικές στιγμές:
 α) $t_1=t_0+1,5\text{s}$, β) $t_2=t_0+3\text{s}$ γ) $t_3=t_0+4\text{s}$

- 2) Στο σχήμα φαίνονται δύο διαφανείς πλάκες A και B. Μια ακτίνα φωτός εισέρχεται από την πλάκα A στη B, όπως στο σχήμα. Χαρακτηρίστε σαν σωστές ή λαθεμένες τις παρακάτω προτάσεις δικαιολογώντας απόλυτα την απάντησή σας.



- i) Για τους δείκτες διάθλασης των δύο υλικών ισχύει $n_A < n_B$.
 ii) Για να συμβεί ολική ανάκλαση σε μια ακτίνα φωτός, αυτή θα πρέπει να μεταβαίνει από την πλάκα B στην πλάκα A.

- 3) Μια ακτίνα μονοχρωματικού φωτός πέφτει κάθετα στη μια πλευρά πρίσματος, η τομή του οποίου είναι ισόπλευρο τρίγωνο, όπως στο σχήμα.



- i) Αν ο δείκτης διάθλασης του πρίσματος για την παραπάνω ακτίνα είναι $n=\sqrt{3}$, να χαράξετε την πορεία της μέχρι και την έξοδό της από το πρίσμα.
 ii) Ποιος ο ελάχιστος δείκτης διάθλασης του πρίσματος, ώστε η ακτίνα να υποστεί ολική εσωτερική ανάκλαση στην πλευρά ΑΓ του πρίσματος.

Μονάδες (2+6)+(3+3)+(6+5)=25

ΘΕΜΑ 3^ο:

Κατά μήκος του άξονα $x'x$ και από τη θέση $x=0$ ξεκινά ένα κύμα για $t=0$ με εξίσωση :

$$y=0,1 \eta\mu(5\pi t-\pi x). \quad (x,y \text{ σε m, } t \text{ σε sec})$$

- α) Να βρείτε την περίοδο, το μήκος κύματος και την ταχύτητα διάδοσης του κύματος.
 β) Ένα σημείο B, βρίσκεται στη θέση $x=3\text{m}$. Ποια η ταχύτητά του τις χρονικές στιγμές $t_1=0,4\text{s}$ και $t_2=0,85\text{s}$;
 γ) Να σχεδιάσετε το στιγμιότυπο του κύματος τη χρονική στιγμή $t_3=0,7\text{s}$.

Μονάδες 9+8+8=25

ΘΕΜΑ 4^ο:

Πάνω σε μια χορδή μήκους 10m έχει δημιουργηθεί ένα στάσιμο κύμα. Για να το μελετήσουμε μαθηματικά, παίρνουμε ένα σύστημα αξόνων $x-y$, όπου σε ένα σημείο O, που απέχει 3m από το αριστερό άκρο του θέτουμε $x=0$, ενώ θεωρούμε $t=0$ τη στιγμή που το σημείο O βρίσκεται στην μέγιστη θετική απομάκρυνσή του. Το σημείο O φτάνει για πρώτη φορά στη μέγιστη αρνητική απομάκρυνσή του τη στιγμή $t=0,5\text{s}$, αφού διανύσει απόσταση 0,8m, ενώ απέχει οριζόντια απόσταση 1m από τον κοντινότερο δεσμό του στάσιμου. Δίνεται ακόμη ότι το σημείο O είναι κοιλία του στάσιμου κύματος.

- i) Η εξίσωση του στάσιμου κύματος είναι της μορφής:
 α) $y=2A \sin(2\pi x/\lambda) \cdot \eta\mu(2\pi t+\pi/2)$
 β) $y=2A \eta\mu(2\pi x/\lambda) \cdot \eta\mu(2\pi t+\pi/2)$
 γ) $y=2A \sin(2\pi x/\lambda+\pi/2) \cdot \eta\mu(2\pi t+\pi/2)$
 Επιλέξτε τη σωστή μορφή δικαιολογώντας την επιλογή σας.
 ii) Να γράψετε την εξίσωση του στάσιμου κύματος.
 iii) Να βρείτε τις θέσεις των δεσμών του στάσιμου κύματος.

iv) Να σχεδιάσετε στο ίδιο σύστημα αξόνων στιγμιότυπα του στάσιμου τις χρονικές στιγμές:

$$\alpha) t_1=0 \text{ και } \beta) t_2=0,75\text{s}$$

Σημειώστε πάνω στο διάγραμμα την ταχύτητα του σημείου O, τις παραπάνω χρονικές στιγμές.

v) α) Να βρεθεί η εξίσωση της ταχύτητας ταλάντωσης του σημείου B στη θέση $x_1=4/3\text{m}$.

β) Σε μια στιγμή η ταχύτητα του B έχει τιμή $v_B=3\text{m/s}$. Να βρεθεί η αντίστοιχη ταχύτητα, την παραπάνω χρονική στιγμή, ενός σημείου Γ στη θέση $x_1=2\text{m}$.

Μονάδες 4+5+4+6+(2+4)=25

Καλή επιτυχία